

平成28年度（2016年度）第1学年4月入学選抜検査

## 適性検査Ⅱ

平成28年（2016年）2月3日（水）実施

### 注意

- 1 指示があるまでは、この問題用紙を開いてはいけません。
- 2 問題用紙は6ページあります。問題用紙のあいているところは自由に使ってかまいません。  
ただし、問題用紙に書いたものは採点されません。
- 3 解答用紙は1枚です。解答はすべて解答用紙に記入してください。
- 4 適性検査Ⅱの検査時間は45分間です。
- 5 声を出して読んではいけません。
- 6 問題用紙には受検番号と氏名を、解答用紙には受検番号を記入してください。
- 7 問題についての質問は受けません。
- 8 問題用紙を持ち帰ることはできません。解答用紙といっしょに提出してください。

受検番号	氏名
------	----

東京学芸大学附属国際中等教育学校

TOKYO GAKUGEI UNIVERSITY INTERNATIONAL SECONDARY SCHOOL

このページに検査問題はありません。

本校の「育てたい生徒像」に『現代的な課題を読み解く力を持った生徒』とあることから、現代的な課題を自ら発見し、その課題に対して「個人研究」を進めるようにという探究課題が出されました。このことに関する次の問いに答えなさい。

問1. あなたなら、どのような現代的課題を探究テーマとしますか。また、そのテーマを選んだ理由も簡潔に答えなさい。ただし、ここでは、あなたが「難民問題」を探究テーマとすることはできないこととします。

問2. いずみさんは、現代的課題として「難民問題」を取り上げることとしました。それは、下の〔資料1〕を読み、心を動かされたからです。〔資料1〕に書かれている男性は、どのような理由から「難民」になったのでしょうか、文章中のことばを使って答えなさい。

〔資料1〕 追い求めた日本 路上転々 難民申請中のアフリカ男性

公園に着いた30代の男性は、奥まった場所にあるベンチに腰を下ろした。夜空に白く光る東京スカイツリーが見える。「眠りたいときは、ここ」アフリカの母国での迫害を逃れて、7月上旬に来日し、難民申請をした。しかし、頼れる知り合いはおらず、保護を求めてやって来たものの、住む場所すらない「ホームレス難民」となった。路上生活は、本国でも経験したことがない。自分や家族に危害が及ぶ恐れがあるため、出身国や本名は公表できないという。座ったまま前を見つめていた男性に、何を考えているのか尋ねた。「自分の人生のこと。そして家族のことだ。」独裁政権下の母国で政治活動をしていた男性は、政権への抗議活動に参加し拘束された。2カ月間、目隠しされ虐待された。背中には傷が残る。支援者の手助けで、収容所を出た後はしばらく身を隠して、一緒に空港に向かった。(後略)

「朝日新聞」2015年8月3日付朝刊をもとに問題作成のため一部を改変しています。

問3. 〔資料1〕では、難民として30代の男性があげられています。このほかに、難民として特に厳しい状況におかれている社会的に弱い立場の人々とは、子ども以外に一般的にはどのような人々でしょうか。一つ答えなさい。

問4. いずみさんは、シリア難民の周辺国の状況についても考えることとしました。〔図1〕〔表1〕

〔資料2〕から、シリア周辺国では、現在どのような状況になっていると読み取ることができるか説明しなさい。

〔図1〕シリアの周辺国



〔表1〕シリア周辺国の人口と難民受け入れ数

	人口 (2014年 人)	難民受け入れ数 (2015年6月 人)
トルコ	75,837,000	1,805,255
レバノン	4,966,000	1,172,753
ヨルダン	7,505,000	629,128
イラク	34,769,000	249,726
エジプト	83,387,000	132,375

〔資料2〕シリア難民、400万人を突破

シリアの難民に充てる予算不足は依然深刻な問題である。2015年シリア難民支援（「シリア周辺地域難民回復計画」）には、55億ドル（1ドル＝120円で換算すると日本円で6,600億円）が必要である。この支援計画はおもにシリア周辺国の負担を軽減し、地域の不安定化を防ぐことを目的としている。しかし6月末時点で必要額の24%しか集まっていない。

国連難民高等弁務官事務所ウェブサイト (<http://www.unhcr.or.jp/html/2015/07/pr-150709.htm>) をもとに問題作成のため一部を改変しています。

問5. シリア難民は、トルコやレバノンなどの近隣諸国を離れ遠くヨーロッパをめざしています。

難民にとって、ドイツは「希望の地」と呼ばれています。なぜ、シリア難民にとって他の国に比べドイツが「希望の地」であるのか、〔表2〕を参考に答えなさい。

〔表2〕シリア近隣諸国の面積・人口・国民総所得・国際観光客数

	面積 (万km <sup>2</sup> )	人口 (2014年 人)	*国民総所得 (2012年 億ドル)	国際観光客数 (2012年 万人)
スペイン	51	47,066,000	13,719	5,770
ドイツ	36	82,652,000	36,328	3,041
ポーランド	31	38,221,000	4,880	1,484
ルーマニア	24	21,640,000	1,719	793
トルコ	78	75,837,000	8,011	3,570
レバノン	1	4,966,000	407	137

\*国民総所得：一国の国民（個人、企業など）の全体が、生産活動に参加したことによって一定期間に受け取った所得の総額を示すもの

問6. いずみさんは、ドイツが「希望の地」と呼ばれる理由を考えているときに、[資料3]を読みました。なぜ、ドイツは「難民」の受け入れに積極的なのだと考えられるか説明しなさい。

[資料3] ドイツに着いた後、難民は？

- Q ドイツにたくさんの難民が到着しているね。その後はどうなるのかな。
- A まず16州ある州の受け入れセンターで、指紋採取や写真撮影をして登録され、健康診断を受けます。そこから各市町村が使われなくなった兵舎や店舗を改造したり、テントを建てたりした施設に移ります。
- Q そこで暮らすの？
- A 正式に難民と認められるまでの暫定措置です。施設では生活用品の他、月1,400ユーロ（約18,000円）の小遣いも支給されます。必要な病気の治療も受けられ、就学年齢の子どもたちは近くの学校に通います。
- Q 難民認定されると働けるの？
- A 認定されると、ITなど専門知識を持つ人から優先的に雇用があっせんされます。滞在許可は3年間で、その間に故郷の事情が変わらなければ永住が認められます。
- Q 大人への支援もある？
- A 認定されるとドイツ語教習に通う権利を得られます。ドイツ労働社会省は来年、最大46万人に33億ユーロ（約4,300億円）かけて職業訓練を実施する予定です。
- Q とても親切だね。
- A ドイツは憲法（基本法）で「政治的に迫害を受けたものは\*庇護を受ける」と定めています。ナチスドイツが人種や政治的理由で大量虐殺を行った過去を反省したものです。メルケル首相は難民受け入れを「倫理的責任」としています。
- \*庇護：かばって守ること

「毎日新聞」2015年9月7日付朝刊をもとに問題作成のため一部を改変しています。

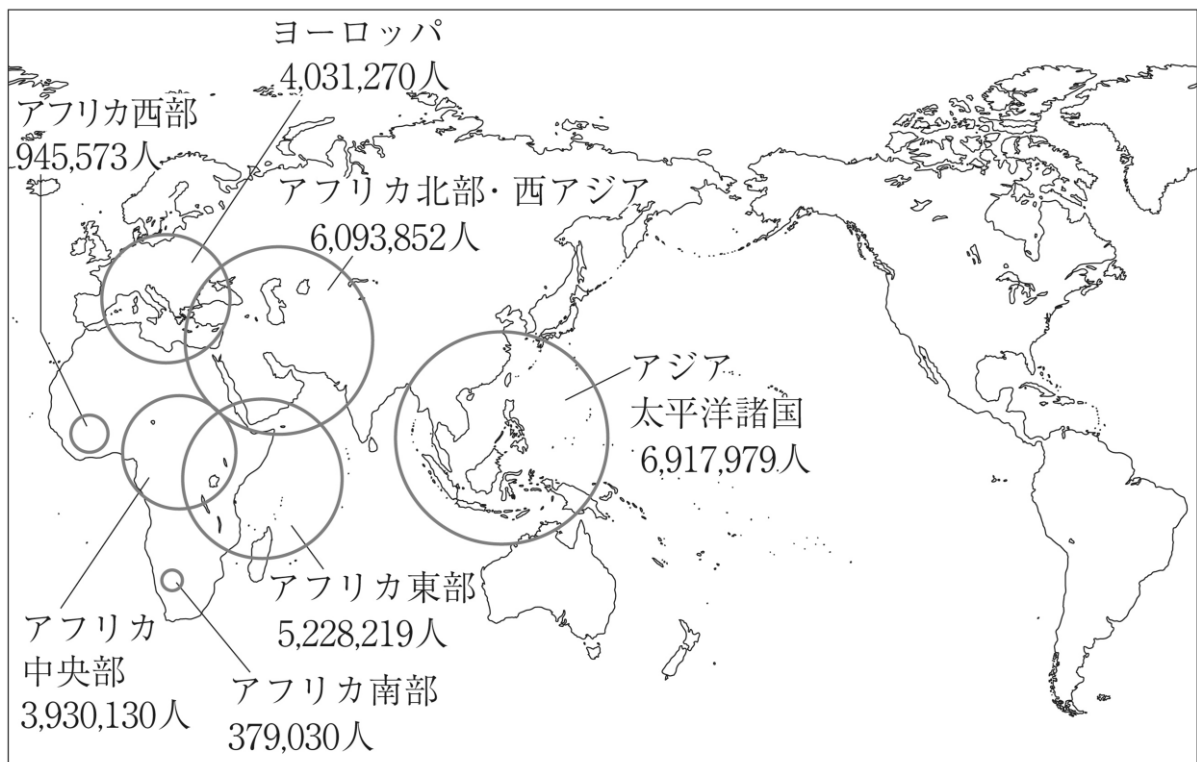
問7. いずみさんは「難民」について、さらに深く追究していく過程で、次の資料群〔図2〕〔図3〕

〔図4〕〔写真1〕〔写真2〕に接しました。そして、これらの資料群をもとに、シリア難民とは別の理由から難民となっている人々にもレポートの中で触れることにしました。次の資料群を参考にして、シリア難民とは別の理由から難民になっている人々に関するレポートを 300 字以上 360 字以内で書きなさい。

【書き方の例】

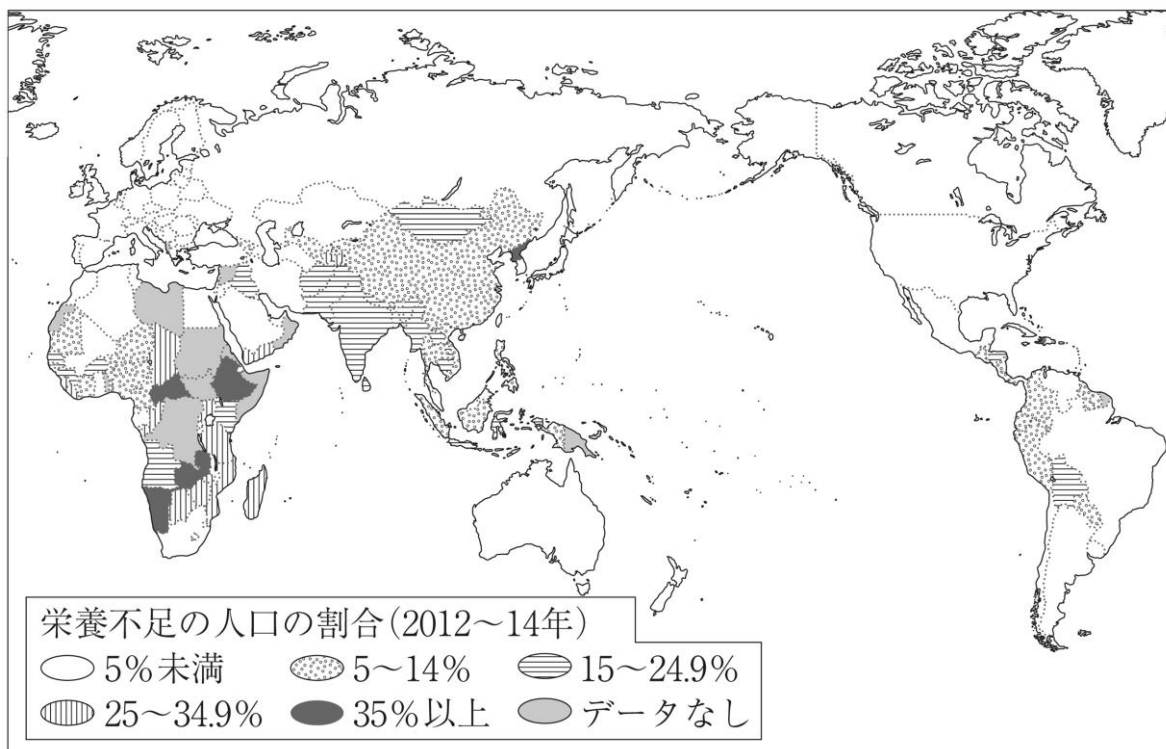
図2から○○○がわかり、または、△△△と読み取ることができることから…等の表現を用い、資料から読み取った内容を簡潔に要約しながら記述することとします。

〔図2〕 世界難民地図



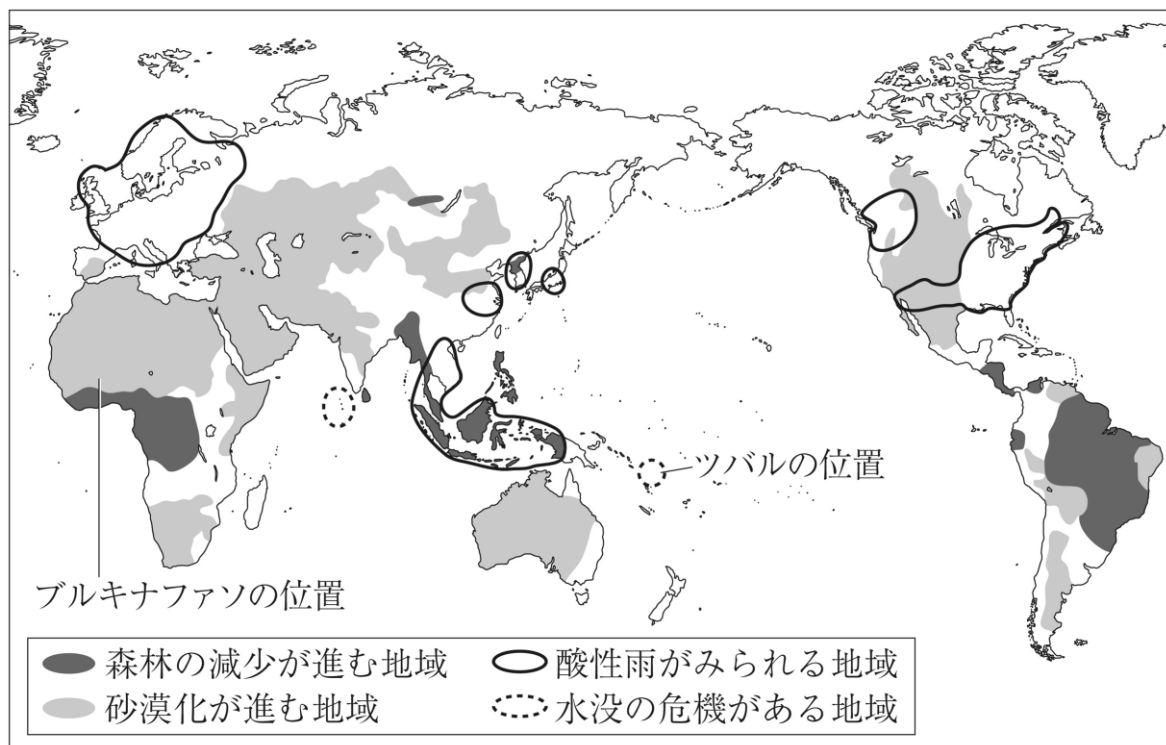
世界難民地図ウェブサイト (<http://refugee-map.com/>) をもとに作成しています。

[図3] 栄養不足の人口の割合



国連 WFP ウェブサイト (<http://ja.wfp.org/hunger-jp/map>) をもとに作成しています。

[図4] 地球規模の環境問題（森林減少・酸性雨・砂漠化・水没）がおきている地域



FAO「世界森林資源評価 2010」国際農林業協働協会などをもとに作成しています。

〔写真1〕 ツバル



全国地球温暖化防止活動推進センターウェブサイト (<http://www.jccca.org/>) をもとに作成しています。

〔写真2〕 ブルキナファソ



全国地球温暖化防止活動推進センターウェブサイト (<http://www.jccca.org/>) をもとに作成しています。



このページに検査問題はありません。

受検番号

平成28年度（2016年度） 第1学年4月入学選抜検査 適性検査Ⅱ（解答用紙）

問1

(テーマ)
(理由)

問2

--

問3

--

問4


問5


問6